



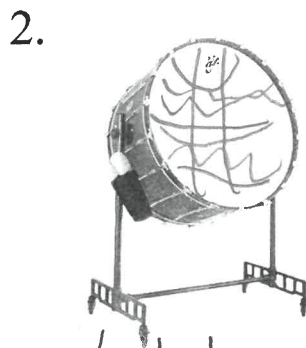
一年級 1J 班 姓名: 鄧軒坤 (11) 日期: 三月廿四 成績: A+
12.19

一. 這些樂器的名稱是甚麼? 把適當的代表英文字母填在 上。


- | | | |
|---------|-------|-------|
| A. 雙音響木 | B. 搖鼓 | C. 響板 |
| D. 大鼓 | E. 鈸 | F. 三角 |



三角 ✓




大鼓 ✓



響板 ✓



搖鼓 ✓
搖



金鈸 ✓



雙音響木 ✓

二. 聆聽老師以下演奏的樂器聲音，在適當的 () 內加 ✓。

樂器一：搖鼓 (✓) 三角 ()

樂器二：大鼓 (✓) 響板 ()

樂器三：雙音響木 () 鈸 (✓)

完

反思：

1. 我能否分辨出不同的敲擊樂器名稱？

(✓) 能夠

() 不能夠 ✓

2. 我能否辨別出不同敲擊樂器的聲音？

(✓) 能夠

() 不能夠 ✓

3. 我覺得我的表現：

(✓) 非常好

() 良好

() 一般 ✓

() 仍需改善